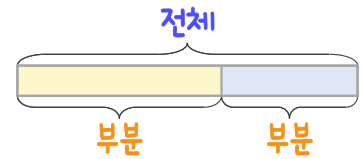
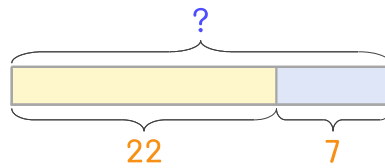


문제를 읽고 알맞은 덧셈식이나 뺄셈식을 세워 답을 구하세요.

부분과 전체를 생각하며 해결해 보세요.



- 1 민호네 가족이 꿀을 어제 22개 먹고 오늘 7개를 먹었습니다. 어제와 오늘 먹은 꿀을 합하면 몇 개인가요?



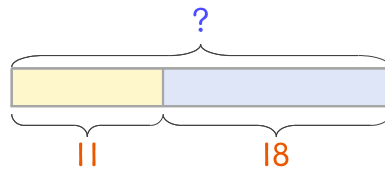
식

$$22+7=29$$

답

29개

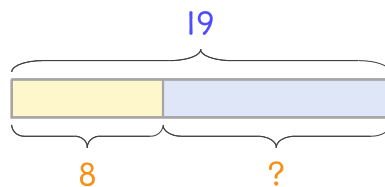
- 2 만두를 수아가 11개 먹었고 언니가 18개 먹었습니다. 두 사람이 먹은 만두를 합하면 몇 개인가요?



식

답

- 3 자두 19개를 지아와 동생이 나누어 먹었습니다. 지아가 8개를 먹었다면 동생이 몇 개를 먹었나요?



식

답

