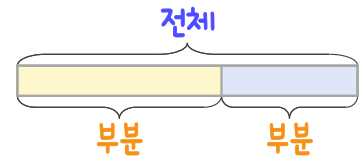
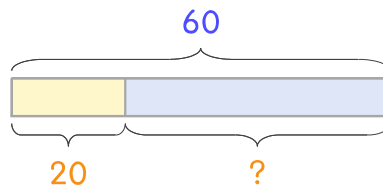


문제를 읽고 알맞은 덧셈식이나 뺄셈식을 세워 답을 구하세요.

부분과 전체를 생각하며 해결해 보세요.

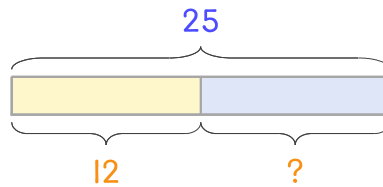


- 4 체육관에 학생이 60명 있는데 그중에서 20명이 여학생입니다. 남학생은 몇 명인가요?



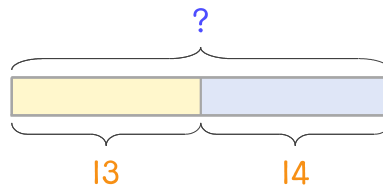
식 $60 - 20 = 40$ 답 40명

- 5 교실에 학생이 25명 있는데 그중에서 12명이 남학생입니다. 여학생은 몇 명 인가요?



식 _____ 답 _____

- 6 수영장에 어른 13명과 어린이 14명이 있습니다. 수영장에 있는 사람은 모두 몇 명인가요?



식 _____ 답 _____

