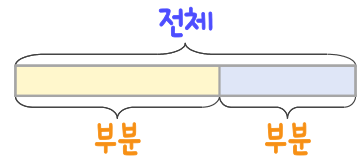
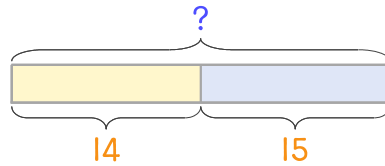


문제를 읽고 알맞은 덧셈식이나 뺄셈식을 세워 답을 구하세요.

부분과 전체를 생각하며 해결해 보세요.



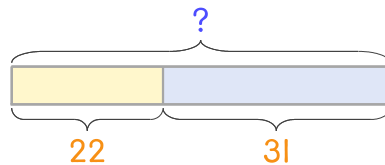
- 7 유나가 종이배를 어제 14개, 오늘 15개 접었습니다. 어제와 오늘 접은 종이배는 모두 몇 개인가요?



식 _____

답 _____

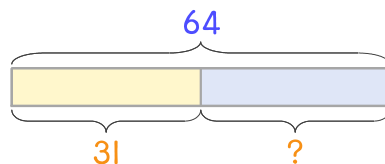
- 8 종이학을 서준이가 22개, 서영이가 31개 접었습니다. 두 사람이 접은 종이학은 모두 몇 개인가요?



식 _____

답 _____

- 9 유민이가 어제와 오늘 접은 종이학을 합하면 64개입니다. 어제 31개를 접었다면 오늘 몇 개를 접었나요?



식 _____

답 _____

