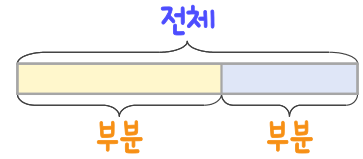
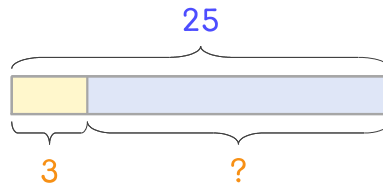


문제를 읽고 알맞은 덧셈식이나 뺄셈식을 세워 답을 구하세요.

부분과 전체를 생각하며 해결해 보세요.



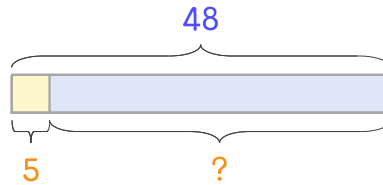
10 달걀 25개를 샀는데 그중에서 3개가 깨졌습니다. 깨지지 않은 달걀은 몇 개 인가요?



식 \_\_\_\_\_

답 \_\_\_\_\_

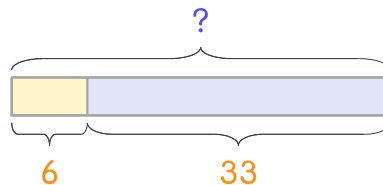
11 달걀 48개를 샀는데 그중에서 5개가 깨졌습니다. 깨지지 않은 달걀은 몇 개 인가요?



식 \_\_\_\_\_

답 \_\_\_\_\_

12 달걀을 사서 6개를 삶았고, 삶지 않은 것이 33개입니다. 달걀을 모두 몇 개 샀나요?



식 \_\_\_\_\_

답 \_\_\_\_\_

