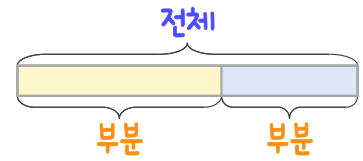
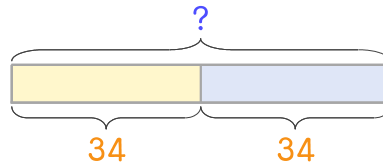


문제를 읽고 알맞은 덧셈식이나 뺄셈식을 세워 답을 구하세요.

부분과 전체를 생각하며 해결해 보세요.



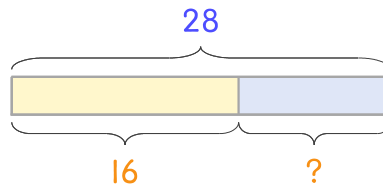
- 13 희림이는 만화책과 동화책을 각각 34권씩 가지고 있습니다. 만화책과 동화책을 합하면 몇 권인가요?



식 _____

답 _____

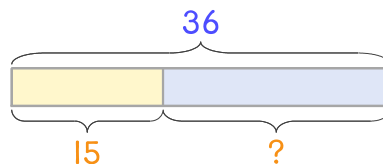
- 14 우유 28개가 있는데 그중에서 16개는 초코우유이고 나머지는 딸기우유입니다. 딸기우유는 몇 개인가요?



식 _____

답 _____

- 15 아이스크림 36개가 있는데 그중에서 15개는 딸기맛이고 나머지는 바나나맛입니다. 바나나맛 아이스크림은 몇 개인가요?



식 _____

답 _____

