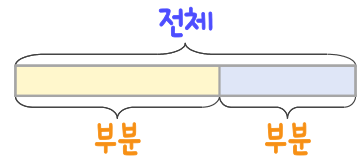
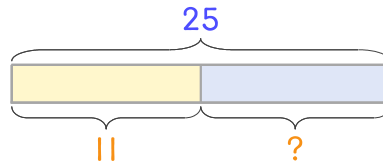


문제를 읽고 알맞은 덧셈식이나 뺄셈식을 세워 답을 구하세요.

부분과 전체를 생각하며 해결해 보세요.



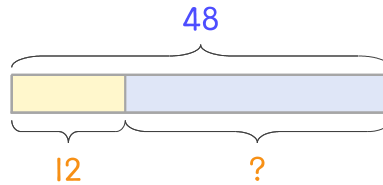
- 16 축구 경기장에 선수가 25명 있는데 그중에서 11명이 경기를 하고 있습니다. 경기를 하지 않는 선수는 몇 명인가요?



식 _____

답 _____

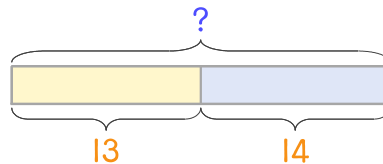
- 17 운동장에 학생이 48명 있는데 그중에서 12명이 달리기를 하고 있습니다. 달리기를 하지 않는 학생은 몇 명인가요?



식 _____

답 _____

- 18 버스 안에 자리에 앉아 있는 승객이 13명이고 서 있는 승객이 14명입니다. 버스 안에 있는 승객은 모두 몇 명인가요?



식 _____

답 _____

