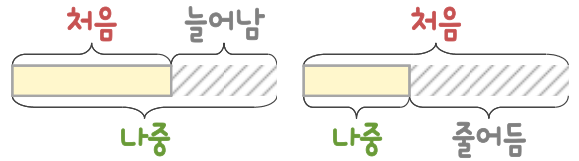
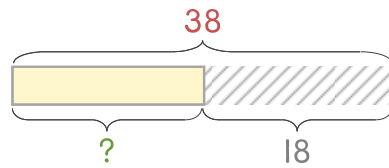


문제를 읽고 알맞은 덧셈식이나 뺄셈식을 세워 답을 구하세요.

처음과 나중을 생각하며 해결해 보세요.

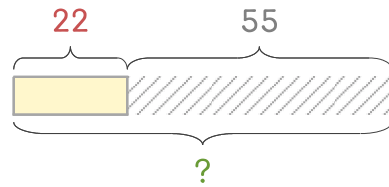


- 1 은비가 도화지 38장을 가지고 있었는데 18장을 친구에게 주었습니다. 남은 도화지는 몇 장인가요?



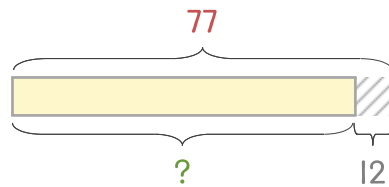
식  $38 - 18 = 20$  답 20장

- 2 은비가 색종이 22장을 가지고 있었는데 55장을 더 샀습니다. 색종이는 모두 몇 장이 되었나요?



식 \_\_\_\_\_ 답 \_\_\_\_\_

- 3 은비가 색종이 77장을 가지고 있었는데 12장을 사용했습니다. 남은 색종이는 몇 장인가요?



식 \_\_\_\_\_ 답 \_\_\_\_\_

