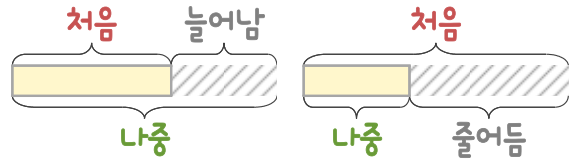
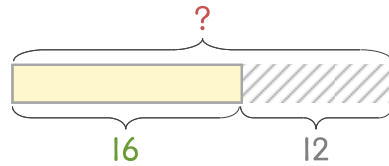


문제를 읽고 알맞은 덧셈식이나 뺄셈식을 세워 답을 구하세요.

처음과 나중을 생각하며 해결해 보세요.



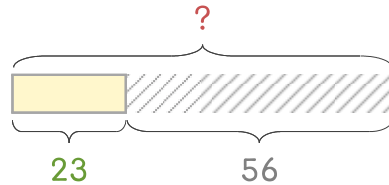
- 7 체육관에 있던 학생들 중에서 12명이 돌아가니 16명이 남았습니다. 처음 체육관에 있던 학생은 몇 명이었나요?



식

답

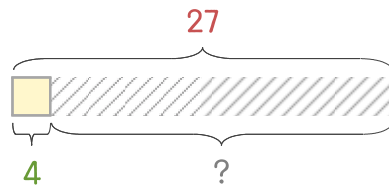
- 8 운동장에 있던 학생들 중에서 56명이 돌아가니 23명이 남았습니다. 처음 운동장에 있던 학생은 몇 명이었나요?



식

답

- 9 교실에 학생들이 27명 있었는데 몇 명이 돌아가니 4명이 남았습니다. 돌아간 학생은 몇 명인가요?



식

답

