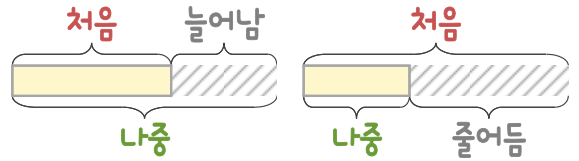
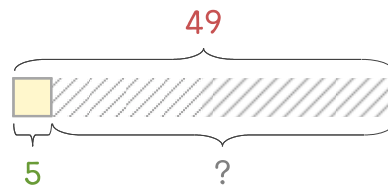


문제를 읽고 알맞은 덧셈식이나 뺄셈식을 세워 답을 구하세요.

처음과 나중을 생각하며 해결해 보세요.



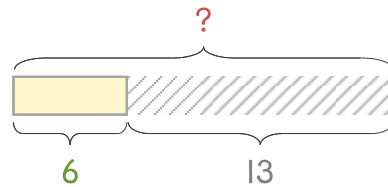
- 10 빵집에 식빵 49개가 있었는데 몇 개를 팔고 나니 5개가 남았습니다. 판 식빵은 몇 개인가요?



식

답

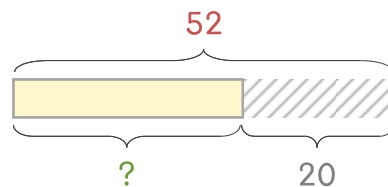
- 11 과자 한 상자를 사서 친구들에게 13개를 나누어 주었더니 6개가 남았습니다. 처음 있던 과자는 몇 개인가요?



식

답

- 12 사탕 52개 중에서 친구들에게 20개를 나누어 주었습니다. 남은 사탕은 몇 개인가요?



식

답

