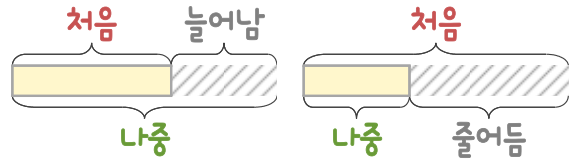
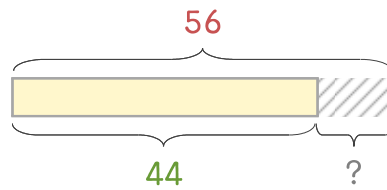


문제를 읽고 알맞은 덧셈식이나 뺄셈식을 세워 답을 구하세요.

처음과 나중을 생각하며 해결해 보세요.



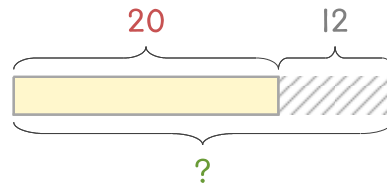
- 13 학급문고에 책이 56권 있는데 친구들이 몇 권을 빌려 가서 44권이 남았습니다. 친구들이 빌려 간 책은 몇 권인가요?



식 _____

답 _____

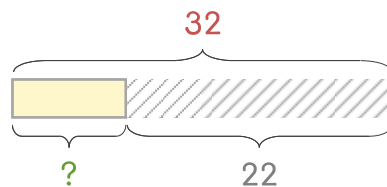
- 14 준오는 만화책 20권을 갖고 있는데 12권짜리 세트를 선물로 받았습니다. 준오가 갖고 있는 만화책은 몇 권이 되었나요?



식 _____

답 _____

- 15 준오는 다 읽은 만화책 32권 중에서 친구들에게 22권을 나누어 주었습니다. 남은 만화책은 몇 권인가요?



식 _____

답 _____

