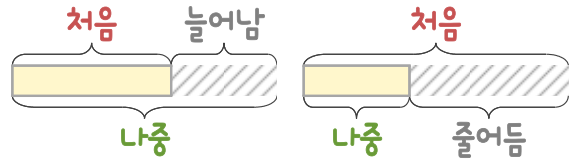
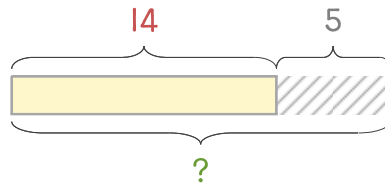


문제를 읽고 알맞은 덧셈식이나 뺄셈식을 세워 답을 구하세요.

처음과 나중을 생각하며 해결해 보세요.



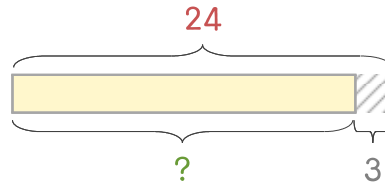
16 화단에 나무가 14그루 있는데 5그루를 더 심었습니다. 화단에 있는 나무는 몇 그루가 되었나요?



식

답

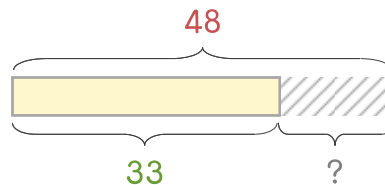
17 화병에 꽃 24송이가 있는데 3송이가 시들어서 버렸습니다. 남은 꽃은 몇 송이인가요?



식

답

18 윤지네 가족이 과자를 만들었습니다. 48개를 만들어서 몇 개를 먹고 나니 33개가 남았습니다. 먹은 과자는 몇 개인가요?



식

답

