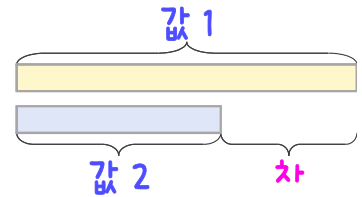
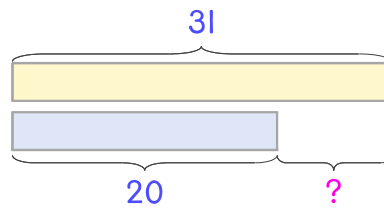


문제를 읽고 알맞은 덧셈식이나 뺄셈식을 세워 답을 구하세요.

두 수의 크기를 비교하여 해결해 보세요.



1 오이 31개와 가지 20개가 있습니다. 오이가 몇 개 더 많은가요?



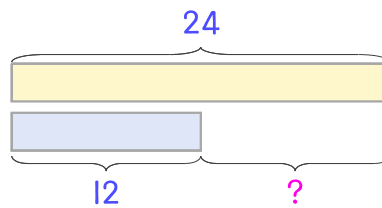
식

$$31 - 20 = 11$$

답

11개

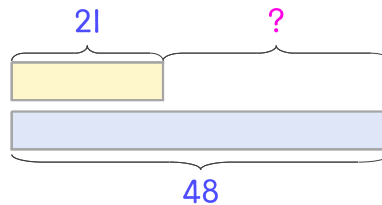
2 토마토는 24개 참외는 12개가 있습니다. 토마토가 몇 개 더 많은가요?



식

답

3 건포도 21개와 아몬드 48개가 있습니다. 건포도가 몇 개 더 적은가요?



식

답

