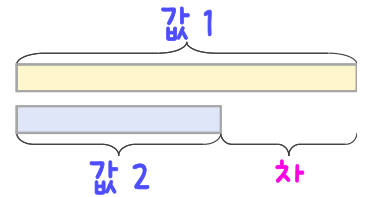
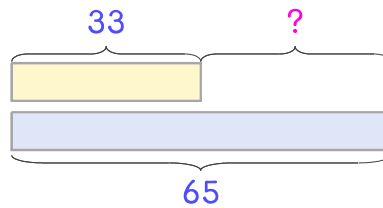


문제를 읽고 알맞은 덧셈식이나 뺄셈식을 세워 답을 구하세요.

두 수의 크기를 비교하여 해결해 보세요.



- 4 다운이는 방학 동안 동화책을 33권 읽었고 언니는 65권을 읽었습니다. 언니는 다운이보다 몇 권 더 많이 읽었나요?



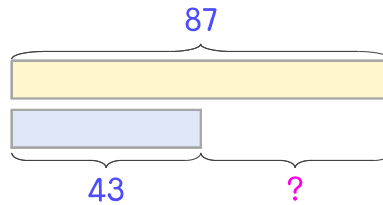
식

$$65 - 33 = 32$$

답

32권

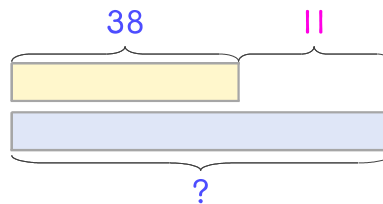
- 5 굴따기 체험농장에서 태오는 굴 87개를 땀고 동생은 43개를 땀습니다. 동생이 태오보다 몇 개 더 적게 땀나요?



식

답

- 6 태오네 가족이 어제는 굴을 38개 먹고 오늘은 어제보다 11개 더 많이 먹었습니다. 오늘 먹은 굴은 몇 개인가요?



식

답

