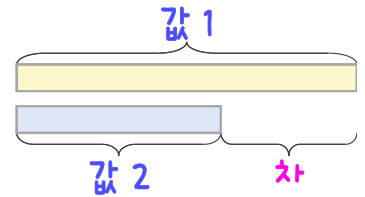
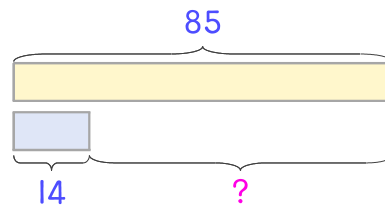


문제를 읽고 알맞은 덧셈식이나 뺄셈식을 세워 답을 구하세요.

두 수의 크기를 비교하여 해결해 보세요.



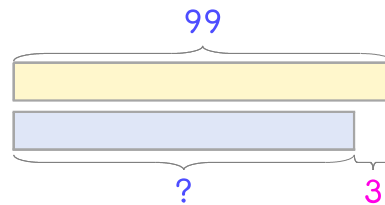
- 7 마술 공연을 보고 있는 사람들은 어린이가 85명, 어른이 14명입니다. 어린이가 몇 명 더 많은가요?



식 \_\_\_\_\_

답 \_\_\_\_\_

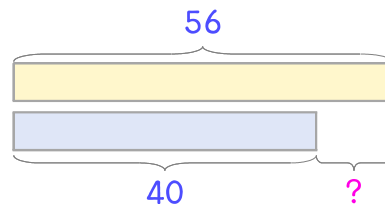
- 8 마술 공연에 온 관객은 99명이고 인형극에 온 관객은 마술 공연 관객보다 3명 더 적습니다. 인형극에 온 관객은 몇 명인가요?



식 \_\_\_\_\_

답 \_\_\_\_\_

- 9 인형극에 온 관객 중에서 어른이 56명이고 어린이가 40명입니다. 어른이 몇 명 더 많은가요?



식 \_\_\_\_\_

답 \_\_\_\_\_

