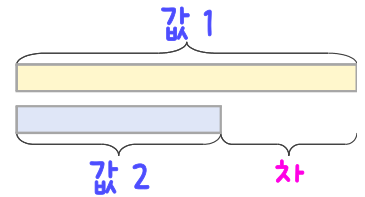
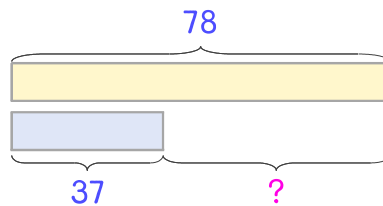


문제를 읽고 알맞은 덧셈식이나 뺄셈식을 세워 답을 구하세요.

두 수의 크기를 비교하여 해결해 보세요.



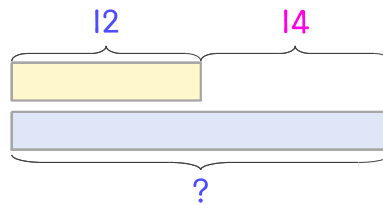
- 10 시현이는 밤을 어제 78개, 오늘 37개 주웠습니다. 어제 주운 밤이 오늘 주운 것보다 몇 개 더 많은가요?



식 \_\_\_\_\_

답 \_\_\_\_\_

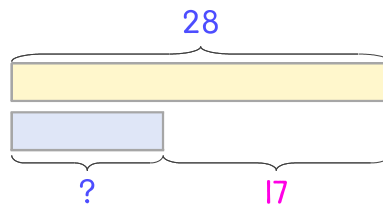
- 11 밤을 어제 12개 먹었고 오늘은 어제보다 14개 더 많이 먹었습니다. 오늘 먹은 밤은 몇 개인가요?



식 \_\_\_\_\_

답 \_\_\_\_\_

- 12 삶은 밤은 28개 있고 구운 밤은 삶은 밤보다 17개 더 적습니다. 구운 밤은 몇 개인가요?



식 \_\_\_\_\_

답 \_\_\_\_\_

