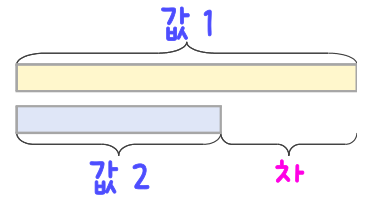
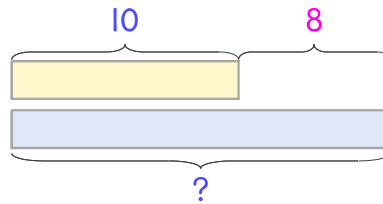


문제를 읽고 알맞은 덧셈식이나 뺄셈식을 세워 답을 구하세요.

두 수의 크기를 비교하여 해결해 보세요.



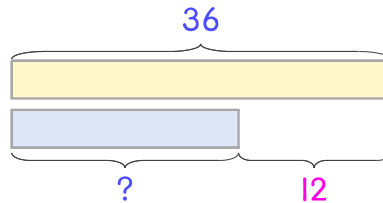
- 13 나린이네 집은 아파트의 10층이고 시연이네 집은 나린이네보다 8층 더 높은 곳에 있습니다. 시연이네 집은 몇 층인가요?



식 _____

답 _____

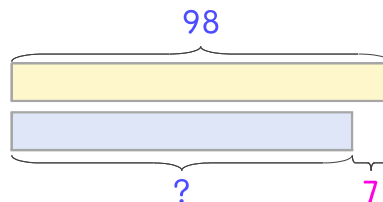
- 14 승빈이네 집은 아파트의 36층이고 재희네 집은 승빈이네 집보다 12층 더 낮은 곳에 있습니다. 재희네 집은 몇 층인가요?



식 _____

답 _____

- 15 건물의 98층에 전망대가 있고 전망대보다 7개층 아래에 극장이 있습니다. 극장은 몇 층에 있나요?



식 _____

답 _____

