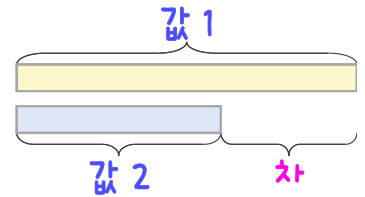
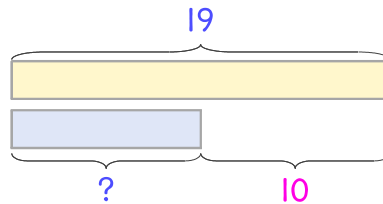


문제를 읽고 알맞은 덧셈식이나 뺄셈식을 세워 답을 구하세요.

두 수의 크기를 비교하여 해결해 보세요.



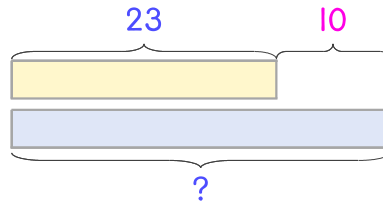
16 동물원에 얼룩말은 19마리 있고 사슴은 얼룩말보다 10마리 더 적습니다. 사슴은 몇 마리인가요?



식 _____

답 _____

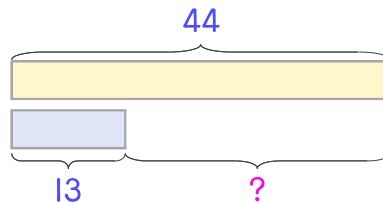
17 동물원에 토끼는 23마리 있고 염소는 토끼보다 10마리 더 많습니다. 염소는 몇 마리인가요?



식 _____

답 _____

18 동물원에 홍학은 44마리 있고 타조는 13마리 있습니다. 홍학이 타조보다 몇 마리 더 많은가요?



식 _____

답 _____

