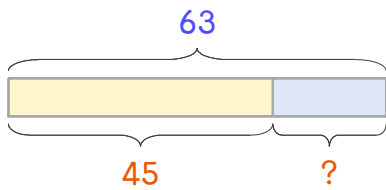


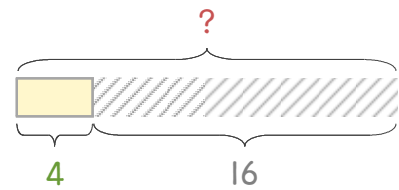
문제를 읽고 알맞은 식을 세워 답을 구하세요.

1 학급문고에 만화책과 동화책이 합해서 63권 있습니다. 그중에서 동화책이 45권이면 만화책은 몇 권인가요?



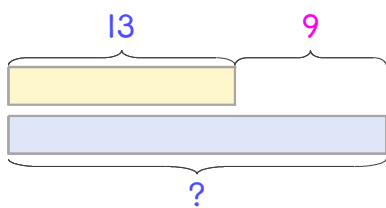
식 _____ 답 _____

2 호떡을 만들어서 16개를 먹었더니 4개가 남았습니다. 호떡을 처음에 몇 개 만들었나요?



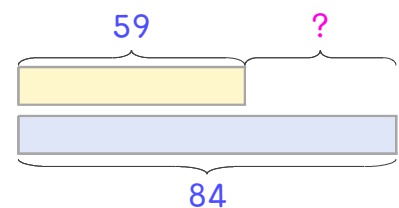
식 _____ 답 _____

3 수아네 반에 여학생은 13명이고 남학생은 여학생보다 9명 더 많습니다. 남학생은 몇 명인가요?



식 _____ 답 _____

4 도서관을 이용한 사람 수는 토요일에 59명, 일요일에 84명입니다. 토요일에 몇 명 더 적게 이용했나요?



식 _____ 답 _____

