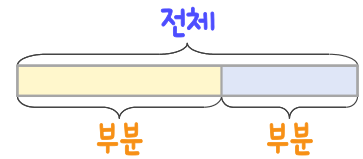
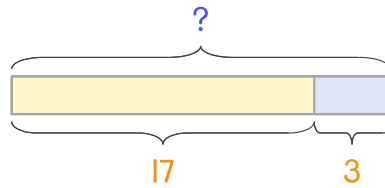


문제를 읽고 알맞은 덧셈식이나 뺄셈식을 세워 답을 구하세요.

부분과 전체를 생각하며 해결해 보세요.



- 1 붕어빵을 언니가 17개 샀고 동생이 3개 샀습니다. 두 사람이 산 붕어빵을 합하면 몇 개인가요?



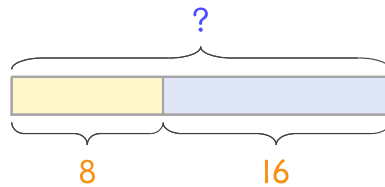
식

$$17 + 3 = 20$$

답

20개

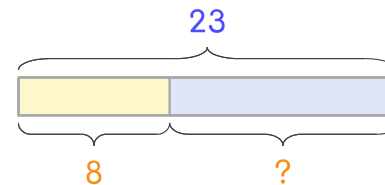
- 2 붕어빵을 형이 8개 샀고 동생이 16개 샀습니다. 두 사람이 산 붕어빵을 합하면 몇 개인가요?



식

답

- 3 버스에 어른과 어린이가 합해서 23명 타고 있는데 그중에서 어린이가 8명입니다. 어른은 몇 명인가요?



식

답

