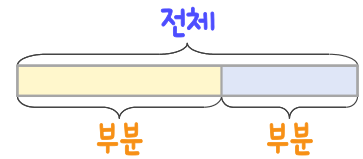
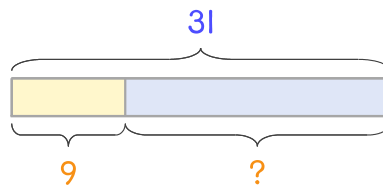


문제를 읽고 알맞은 덧셈식이나 뺄셈식을 세워 답을 구하세요.

부분과 전체를 생각하며 해결해 보세요.



- 4 교실에 학생이 31명 있는데 그중에서 여학생이 9명입니다. 남학생은 몇 명 인가요?



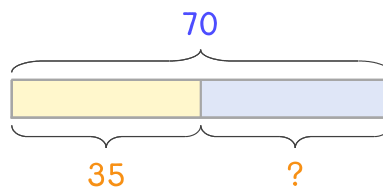
식

$$31 - 9 = 22$$

답

22명

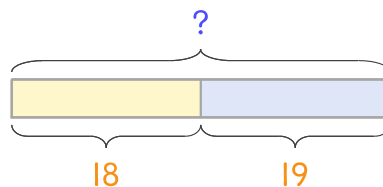
- 5 운동장에 학생이 70명 있는데 그중에서 여학생이 35명입니다. 남학생은 몇 명 인가요?



식

답

- 6 교실에 남학생 18명과 여학생 19명이 있습니다. 교실에 있는 학생은 모두 몇 명인가요?



식

답

