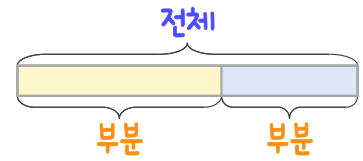
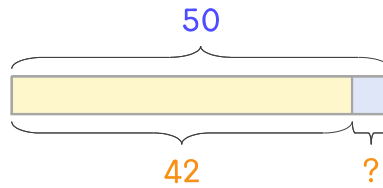


문제를 읽고 알맞은 덧셈식이나 뺄셈식을 세워 답을 구하세요.

부분과 전체를 생각하며 해결해 보세요.



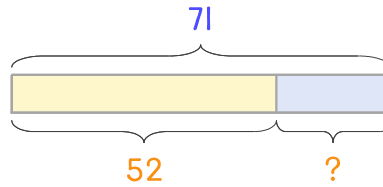
- 7 당근과 오이가 합해서 50개 있습니다. 그중에서 당근이 42개이면 오이는 몇 개인가요?



식 _____

답 _____

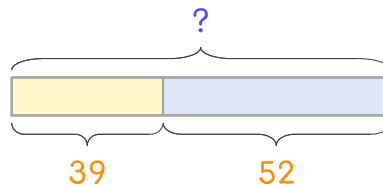
- 8 호박과 가지가 합해서 71개 있습니다. 그중에서 호박이 52개이면 가지는 몇 개인가요?



식 _____

답 _____

- 9 고구마는 39개, 감자는 52개 있습니다. 고구마와 감자를 합하면 모두 몇 개인가요?



식 _____

답 _____

