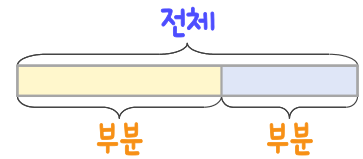
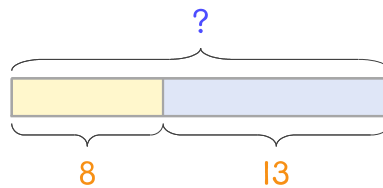


문제를 읽고 알맞은 덧셈식이나 뺄셈식을 세워 답을 구하세요.

부분과 전체를 생각하며 해결해 보세요.



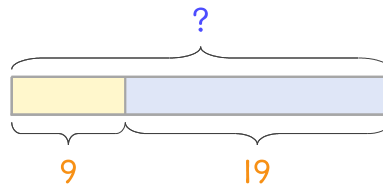
- 10 놀이터에 여학생이 8명, 남학생이 13명 있습니다. 놀이터에 있는 학생은 모두 몇 명인가요?



식 _____

답 _____

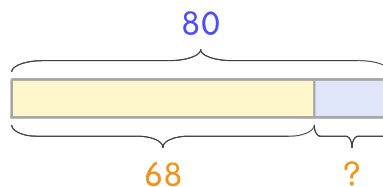
- 11 강당에 남학생이 9명, 여학생이 19명 있습니다. 강당에 있는 학생은 모두 몇 명인가요?



식 _____

답 _____

- 12 보라색 색종이와 초록색 색종이가 합해서 80장 있습니다. 그중에서 보라색 색종이가 68장이면 초록색 색종이는 몇 장인가요?



식 _____

답 _____

