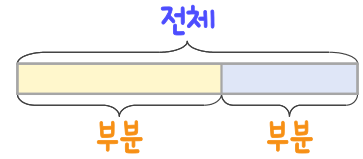
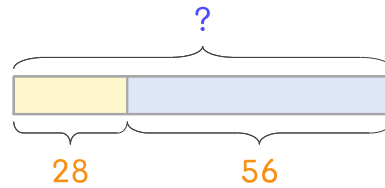


문제를 읽고 알맞은 덧셈식이나 뺄셈식을 세워 답을 구하세요.

부분과 전체를 생각하며 해결해 보세요.



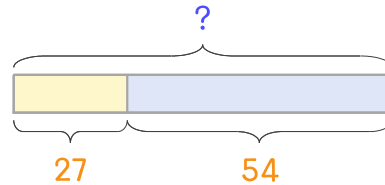
- 13 과수원에서 사과를 어제 28개, 오늘 56개 따았습니다. 어제와 오늘 딴 사과는 모두 몇 개인가요?



식 _____

답 _____

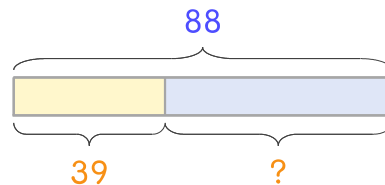
- 14 과수원에서 포도를 어제 27송이, 오늘 54송이 따았습니다. 어제와 오늘 딴 포도는 모두 몇 송이인가요?



식 _____

답 _____

- 15 과수원에서 어제와 오늘 딴 수박을 합하면 88개입니다. 어제 39개를 따다면 오늘 몇 개를 따나요?



식 _____

답 _____

