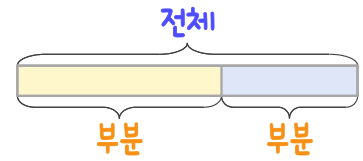
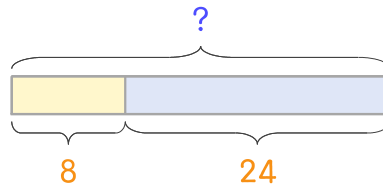


문제를 읽고 알맞은 덧셈식이나 뺄셈식을 세워 답을 구하세요.

부분과 전체를 생각하며 해결해 보세요.



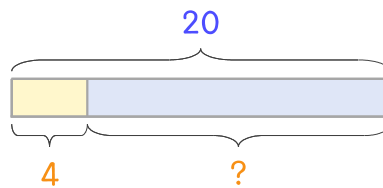
16 달걀을 샀는데 깨진 것이 8개, 깨지지 않은 것이 24개입니다. 달걀을 모두 몇 개 샀나요?



식 _____

답 _____

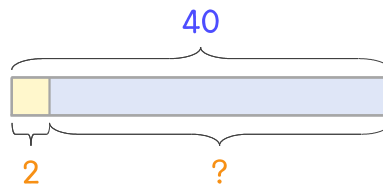
17 달걀 20개를 사서 4개를 삶았습니다. 삶지 않은 달걀은 몇 개인가요?



식 _____

답 _____

18 꽃 40송이를 샀는데 그중에서 2송이는 백합이고 나머지는 국화입니다. 국화는 몇 송이인가요?



식 _____

답 _____

