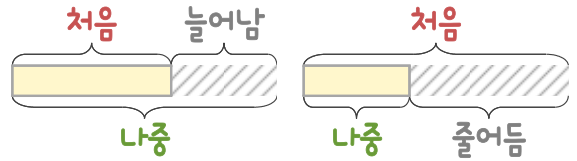
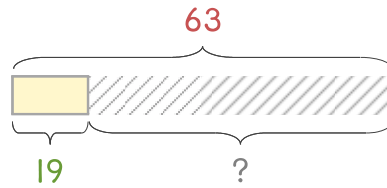


문제를 읽고 알맞은 덧셈식이나 뺄셈식을 세워 답을 구하세요.

처음과 나중을 생각하며 해결해 보세요.



- 1 도넛가게에 도넛이 63개 있었는데 몇 개를 팔았더니 19개가 남았습니다. 몇 개를 팔았나요?



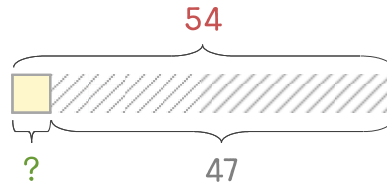
식

$$63 - 19 = 44$$

답

44개

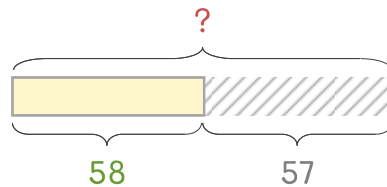
- 2 도넛가게에 도넛이 54개 있었는데 47개를 팔았습니다. 남은 도넛은 몇 개인가요?



식

답

- 3 감자 한 상자를 사서 57개를 먹었더니 58개가 남았습니다. 처음에 있던 감자는 몇 개인가요?



식

답

