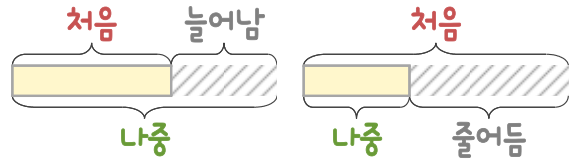
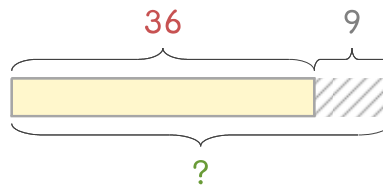


문제를 읽고 알맞은 덧셈식이나 뺄셈식을 세워 답을 구하세요.

처음과 나중을 생각하며 해결해 보세요.



- 4 빵집에 식빵 36개가 있는데 9개를 더 만들었습니다. 식빵은 모두 몇 개가 되었나요?



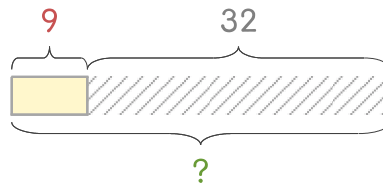
식

$$36 + 9 = 45$$

답

45개

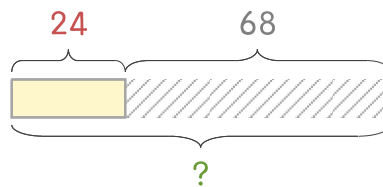
- 5 빵집에 단팥빵 9개가 있는데 32개를 더 만들었습니다. 단팥빵은 모두 몇 개가 되었나요?



식

답

- 6 유소가 색종이 24장을 가지고 있었는데 68장을 더 샀습니다. 색종이는 모두 몇 장이 되었나요?



식

답

