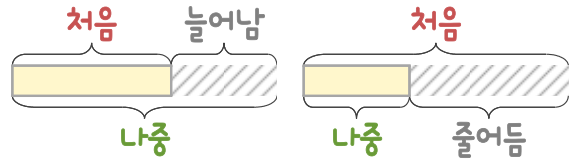
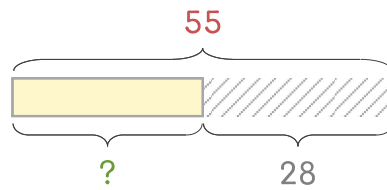


문제를 읽고 알맞은 덧셈식이나 뺄셈식을 세워 답을 구하세요.

처음과 나중을 생각하며 해결해 보세요.



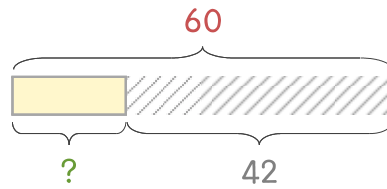
- 7 빵집에 식빵 55개가 있는데 그중에서 28개를 팔았습니다. 남은 식빵은 몇 개인가요?



식

답

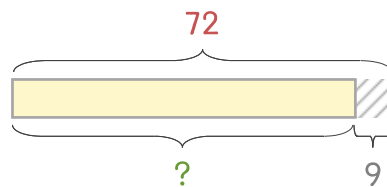
- 8 빵집에 단팥빵 60개가 있는데 그중에서 42개를 팔았습니다. 남은 단팥빵은 몇 개인가요?



식

답

- 9 재희가 색종이 72장을 가지고 있는데 9장을 친구에게 주었습니다. 남은 색종이는 몇 장인가요?



식

답

