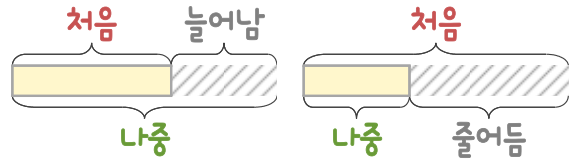
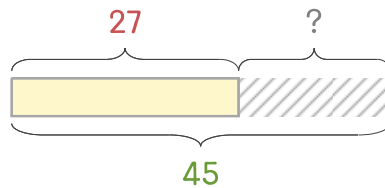


문제를 읽고 알맞은 덧셈식이나 뺄셈식을 세워 답을 구하세요.

처음과 나중을 생각하며 해결해 보세요.



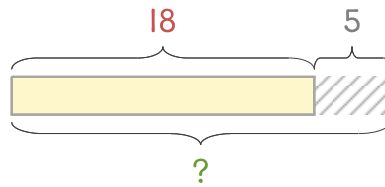
- 10 수족관에 열대어가 27마리 있었는데 며칠 후에 보니 45마리가 되었습니다. 몇 마리가 늘어났나요?



식

답

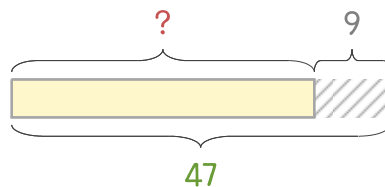
- 11 수족관에 열대어가 18마리 있었는데 5마리를 더 넣었습니다. 열대어는 몇 마리가 되었나요?



식

답

- 12 수족관에 거북이 몇 마리가 있었는데 9마리를 더 넣었더니 47마리가 되었습니다. 처음에 있던 거북이는 몇 마리인가요?



식

답

