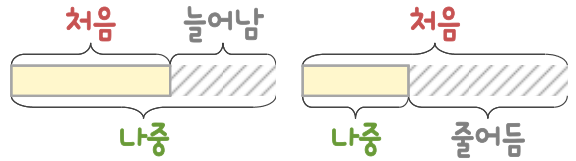
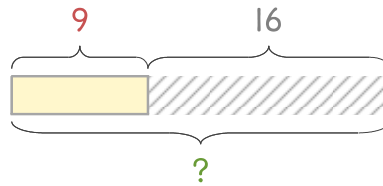


문제를 읽고 알맞은 덧셈식이나 뺄셈식을 세워 답을 구하세요.

처음과 나중를 생각하며 해결해 보세요.



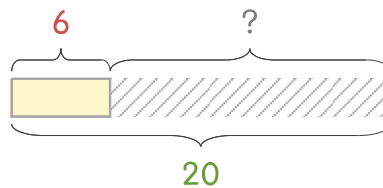
13 현규는 9살입니다. 16년 후에는 몇 살이 되나요?



식 _____

답 _____

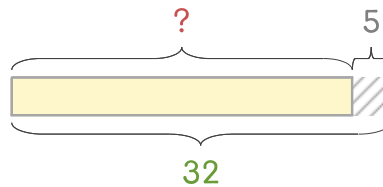
14 현규의 동생은 6살입니다. 20살이 되려면 몇 년이 지나야 하나요?



식 _____

답 _____

15 민규의 이모는 32살입니다. 5년 전에는 몇 살이었나요?



식 _____

답 _____

