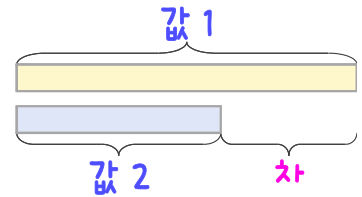
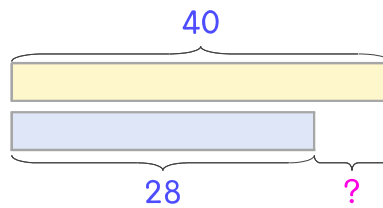


문제를 읽고 알맞은 덧셈식이나 뺄셈식을 세워 답을 구하세요.

두 수의 크기를 비교하여 해결해 보세요.

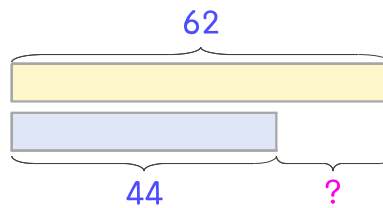


1 사과는 40개, 배는 28개입니다. 사과가 몇 개 더 많은가요?



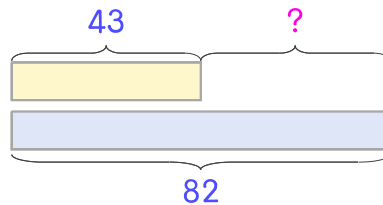
식  $40 - 28 = 12$  답 12개

2 꿀은 62개, 감은 44개입니다. 꿀이 몇 개 더 많은가요?



식 \_\_\_\_\_ 답 \_\_\_\_\_

3 감자는 43개, 고구마는 82개입니다. 고구마가 몇 개 더 많은가요?



식 \_\_\_\_\_ 답 \_\_\_\_\_

