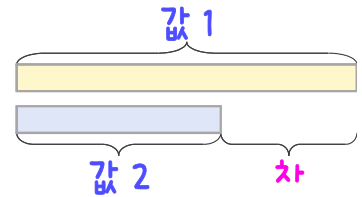
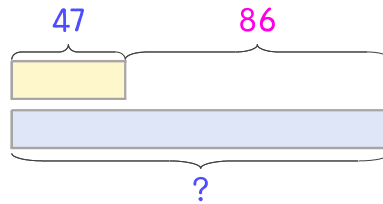


문제를 읽고 알맞은 덧셈식이나 뺄셈식을 세워 답을 구하세요.

두 수의 크기를 비교하여 해결해 보세요.



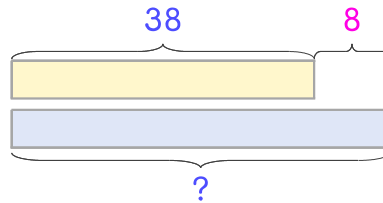
- 7 양배추는 47개이고 브로콜리는 양배추보다 86개 더 많습니다. 브로콜리는 몇 개인가요?



식 _____

답 _____

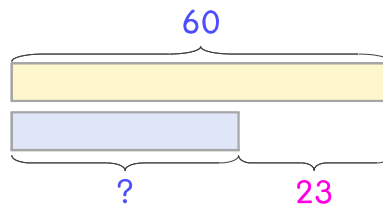
- 8 파프리카는 38개이고 단호박은 파프리카보다 8개 더 많습니다. 단호박은 몇 개인가요?



식 _____

답 _____

- 9 토마토는 60개이고 양파는 토마토보다 23개 더 적습니다. 양파는 몇 개인가요?



식 _____

답 _____

