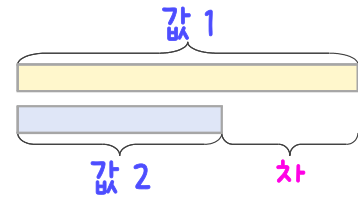
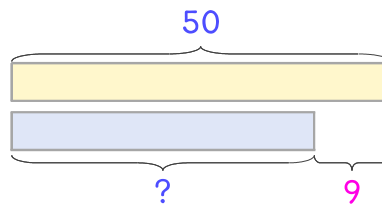


문제를 읽고 알맞은 덧셈식이나 뺄셈식을 세워 답을 구하세요.

두 수의 크기를 비교하여 해결해 보세요.



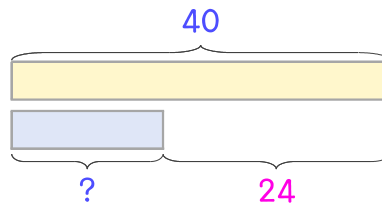
10 배는 50개이고 사과는 배보다 9개 더 적습니다. 사과는 몇 개인가요?



식 \_\_\_\_\_

답 \_\_\_\_\_

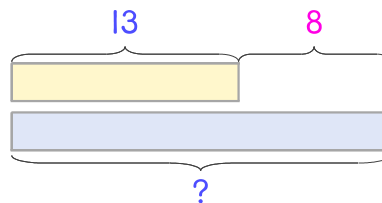
11 참외는 40개이고 복숭아는 참외보다 24개 더 적습니다. 복숭아는 몇 개인가요?



식 \_\_\_\_\_

답 \_\_\_\_\_

12 놀이터에 있는 여학생은 13명이고 남학생은 여학생보다 8명 더 많습니다. 남학생은 몇 명인가요?



식 \_\_\_\_\_

답 \_\_\_\_\_

