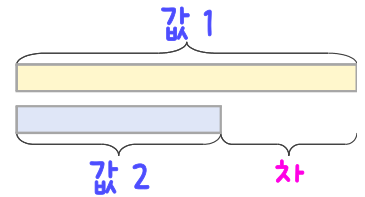
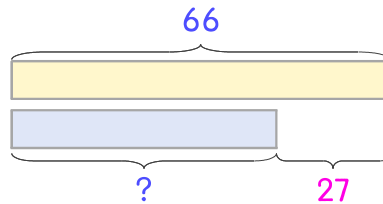


문제를 읽고 알맞은 덧셈식이나 뺄셈식을 세워 답을 구하세요.

두 수의 크기를 비교하여 해결해 보세요.



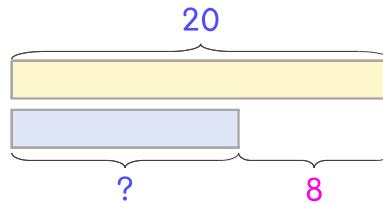
- 13 보드게임을 해서 지후는 66점을 얻었고 윤후는 지후보다 27점 더 낮은 점수를 얻었습니다. 윤후는 몇 점인가요?



식 _____

답 _____

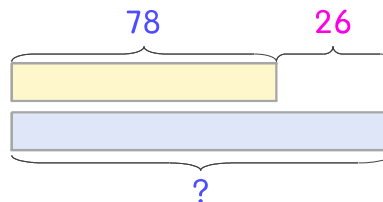
- 14 동물원에 얼룩말은 20마리 있고 기린은 얼룩말보다 8마리 더 적습니다. 기린은 몇 마리인가요?



식 _____

답 _____

- 15 방학 동안 미혜는 책을 78권 읽었고 서희는 미혜보다 26권 더 많이 읽었습니다. 서희는 책을 몇 권 읽었나요?



식 _____

답 _____

