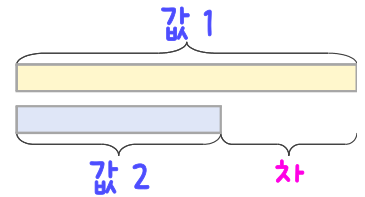
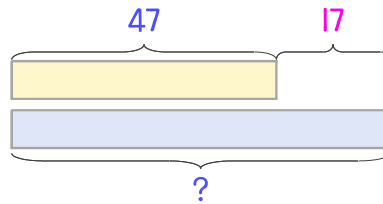


문제를 읽고 알맞은 덧셈식이나 뺄셈식을 세워 답을 구하세요.

두 수의 크기를 비교하여 해결해 보세요.



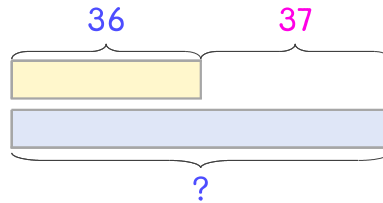
- 16 보드게임을 해서 지아는 47점을 얻었고 현지는 지아보다 17점 더 높은 점수를 얻었습니다. 현지는 몇 점인가요?



식 _____

답 _____

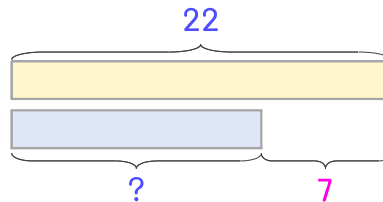
- 17 농장에 염소는 36마리 있고 오리는 염소보다 37마리 더 많습니다. 오리는 몇 마리인가요?



식 _____

답 _____

- 18 방학 동안 지유는 심부름을 22번 했고 온유는 지유보다 7번 더 적게 했습니다. 온유는 심부름을 몇 번 했나요?



식 _____

답 _____

