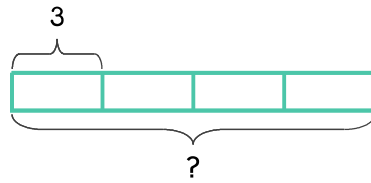
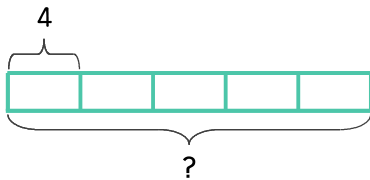


초콜릿이 상자 한 개에 3개씩 들어 있습니다. 상자 4개에 들어 있는 초콜릿은 모두 몇 개인가요?



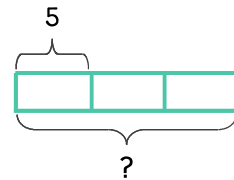
식 $3 \times 4 = 12$ 답 12개

1 초콜릿이 상자 한 개에 4개씩 들어 있습니다. 상자 5개에 들어 있는 초콜릿은 모두 몇 개인가요?



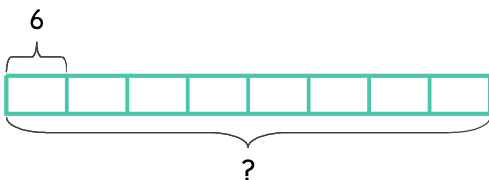
식 _____ 답 _____

2 과자가 접시 한 개에 5개씩 있습니다. 접시 3개에 있는 과자는 모두 몇 개인가요?



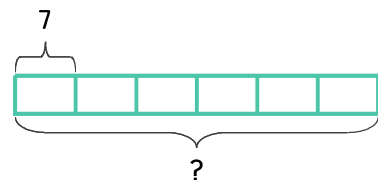
식 _____ 답 _____

3 봉지 한 개에 사탕이 6개씩 들어 있습니다. 사탕 봉지가 8개이면 사탕은 모두 몇 개인가요?



식 _____ 답 _____

4 봉지 한 개에 젤리가 7개씩 들어 있습니다. 젤리 봉지가 6개이면 젤리는 모두 몇 개인가요?



식 _____ 답 _____

