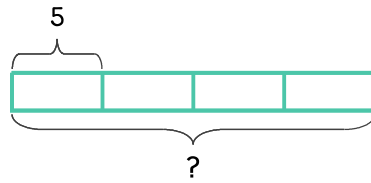
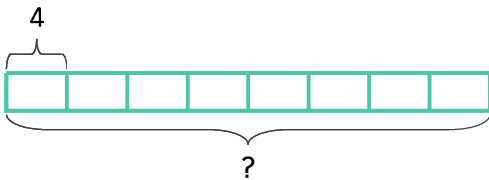


자동차 한 대에 5명씩 탈 수 있습니다. 자동차 4대에 탈 수 있는 사람은 모두 몇 명인가요?



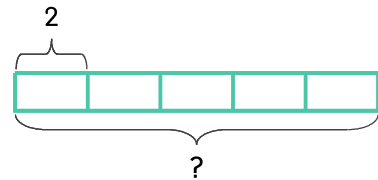
식  $5 \times 4 = 20$       답 20명

1 한 대에 4명씩 탈 수 있는 자동차가 있습니다. 이 자동차 8대에 탈 수 있는 사람은 모두 몇 명인가요?



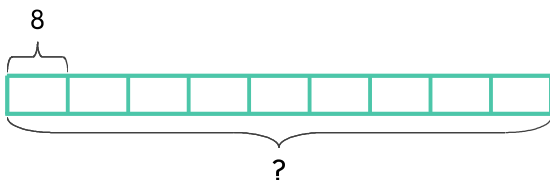
식 \_\_\_\_\_      답 \_\_\_\_\_

2 자전거 한 대에 2명씩 탈 수 있습니다. 자전거 5대에 탈 수 있는 사람은 모두 몇 명인가요?



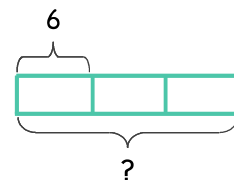
식 \_\_\_\_\_      답 \_\_\_\_\_

3 배가 9척 있는데 한 척에 8명씩 탈 수 있습니다. 배에 탈 수 있는 사람은 모두 몇 명인가요?



식 \_\_\_\_\_      답 \_\_\_\_\_

4 엘리베이터에 한 번에 6명씩 타려고 합니다. 엘리베이터가 3번 운행하면 몇 명이 탈 수 있나요?



식 \_\_\_\_\_      답 \_\_\_\_\_

