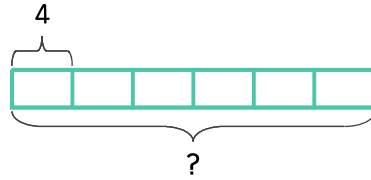
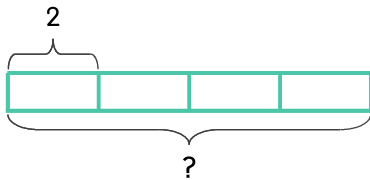


어항에 금붕어를 4마리씩 넣으려고 합니다. 어항이 6개이면 금붕어가 몇 마리 필요한가요?



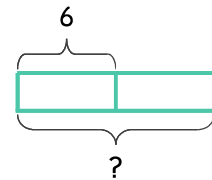
식  $4 \times 6 = 24$       답 **24마리**

1 어항에 금붕어를 2마리씩 넣으려고 합니다. 어항이 4개이면 금붕어가 몇 마리 필요한가요?



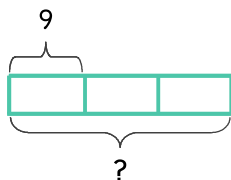
식 \_\_\_\_\_      답 \_\_\_\_\_

2 화분에 봉선화 씨앗을 6개씩 심으려고 합니다. 화분이 2개이면 봉선화 씨앗이 몇 개 필요한가요?



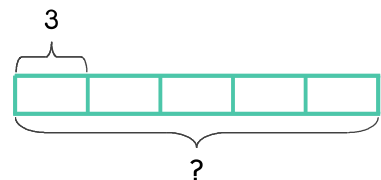
식 \_\_\_\_\_      답 \_\_\_\_\_

3 3칸으로 되어 있는 책꽂이가 있습니다. 한 칸에 책을 9권씩 꽂았다면 책은 모두 몇 권인가요?



식 \_\_\_\_\_      답 \_\_\_\_\_

4 색종이 5봉지가 있습니다. 한 봉지에 색종이가 3장씩 들어 있다면 색종이는 모두 몇 장인가요?



식 \_\_\_\_\_      답 \_\_\_\_\_

