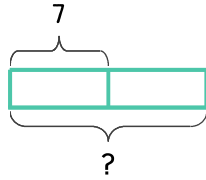
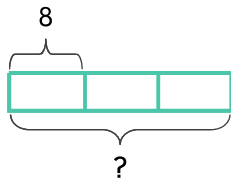


단팥빵을 상자 한 개에 7개씩 담으려고 합니다. 상자가 2개이면 단팥빵은 몇 개 필요한가요?



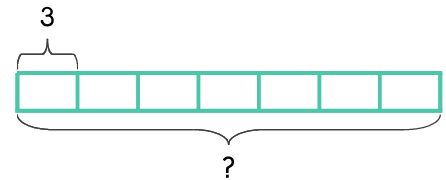
식 $7 \times 2 = 14$ 답 14개

1 컵케이크를 상자 한 개에 8개씩 담으려고 합니다. 상자가 3개이면 컵케이크는 몇 개 필요한가요?



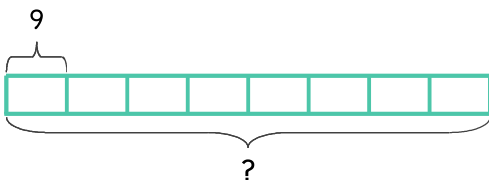
식 _____ 답 _____

2 연필을 한 사람에게 3자루씩 주려고 합니다. 7명에게 주려면 필요한 연필은 몇 자루인가요?



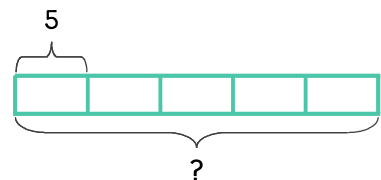
식 _____ 답 _____

3 크레파스를 9자루씩 상자에 담으려고 합니다. 상자가 8개이면 필요한 크레파스는 몇 자루인가요?



식 _____ 답 _____

4 곶을 한 사람에게 5개씩 주려고 합니다. 민아, 윤지, 승민, 상지, 민호에게 주려면 필요한 곶은 몇 개인가요?



식 _____ 답 _____

