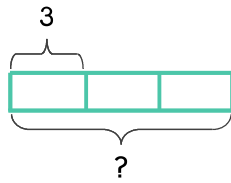
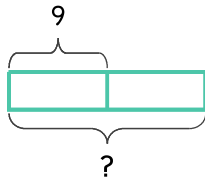


민아의 동생은 3살이고 민아 나이는 동생의 3배입니다. 민아는 몇 살인가요?



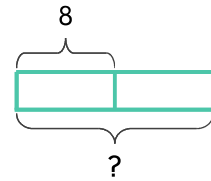
식 $3 \times 3 = 9$ 답 9살

1 민아는 9살이고 언니의 나이는 민아 나이의 2배입니다. 언니는 몇 살인가요?



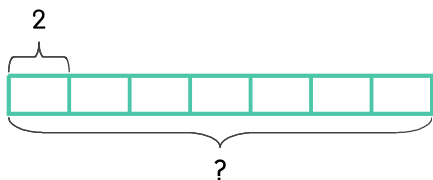
식 답

2 은호는 8살이고 형의 나이는 은호 나이의 2배입니다. 형은 몇 살인가요?



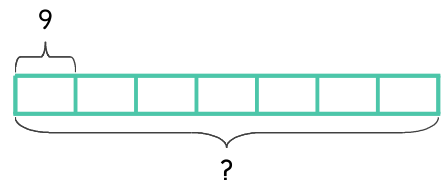
식 답

3 윤지의 동생은 2살이고 윤지의 언니 나이는 동생 나이의 7배입니다. 언니는 몇 살인가요?



식 답

4 성호는 9살이고 할아버지의 연세는 성호 나이의 7배입니다. 할아버지는 몇 세 인가요?



식 답

