







1 주사위 던지기 놀이를 해서 다음 결과가 나왔습니다. 눈의 수를 모두 합하면 얼마 인가요?

주사위			
나온 횟수	3	2	4

답 _____

2 주사위 던지기 놀이를 해서 다음 결과가 나왔습니다. 눈의 수를 모두 합하면 얼마 인가요?

주사위			
나온 횟수	2	2	1

답 _____

3 주사위 던지기 놀이를 해서 2의 눈이 3개, 3의 눈이 4개 나왔습니다. 눈의 수를 모두 합하면 얼마인가요?

답 _____

4 주사위 던지기 놀이를 해서 1의 눈이 4개, 4의 눈이 2개, 5의 눈이 한 개 나왔습니다. 눈의 수를 모두 합하면 얼마인가요?

답 _____

