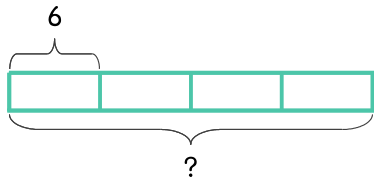


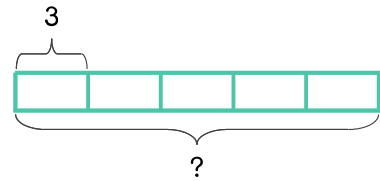
문제를 읽고 알맞은 식을 세워 답을 구하세요.

- 1 찹쌀떡이 상자 한 개에 6개씩 들어 있습니다. 상자 4개에 들어 있는 찹쌀떡은 모두 몇 개인가요?



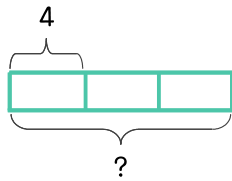
식 $6 \times 4 = 24$ 답 24개

- 2 찹쌀떡이 상자 한 개에 3개씩 들어 있습니다. 상자 5개에 들어 있는 찹쌀떡은 모두 몇 개인가요?



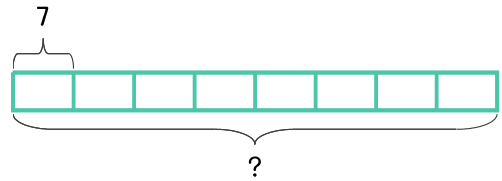
식 _____ 답 _____

- 3 딸기가 접시 한 개에 4개씩 있습니다. 접시 3개에 있는 딸기는 모두 몇 개인가요?



식 _____ 답 _____

- 4 봉지 한 개에 젤리가 7개씩 들어 있습니다. 젤리 봉지가 8개이면 젤리는 모두 몇 개인가요?



식 _____ 답 _____

