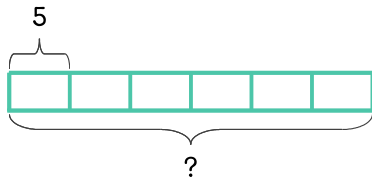


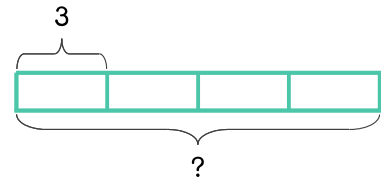
문제를 읽고 알맞은 식을 세워 답을 구하세요.

- 9 어항에 금붕어를 5마리씩 넣으려고 합니다. 어항이 6개이면 금붕어가 몇 마리 필요한가요?



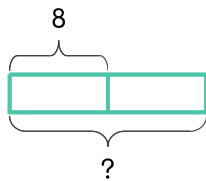
식 $5 \times 6 = 30$ 답 30마리

- 10 어항에 금붕어를 3마리씩 넣으려고 합니다. 어항이 4개이면 금붕어가 몇 마리 필요한가요?



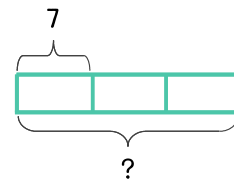
식 _____ 답 _____

- 11 화분에 상추 씨앗을 8개씩 심으려고 합니다. 화분이 2개이면 상추 씨앗이 몇 개 필요한가요?



식 _____ 답 _____

- 12 3칸으로 되어 있는 책꽂이가 있습니다. 한 칸에 책을 7권씩 꽂았다면 책은 모두 몇 권인가요?



식 _____ 답 _____

