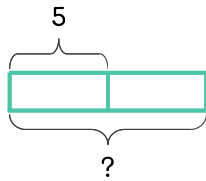


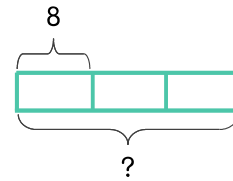
문제를 읽고 알맞은 식을 세워 답을 구하세요.

13 도넛을 만들어서 상자 한 개에 5개씩 담으려고 합니다. 상자가 2개이면 도넛은 몇 개 필요한가요?



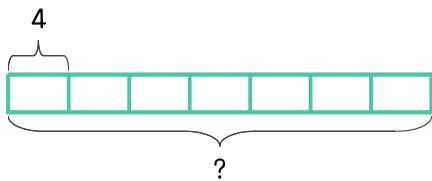
식 $5 \times 2 = 10$ 답 10개

14 도넛을 만들어서 상자 한 개에 8개씩 담으려고 합니다. 상자가 3개이면 도넛은 몇 개 필요한가요?



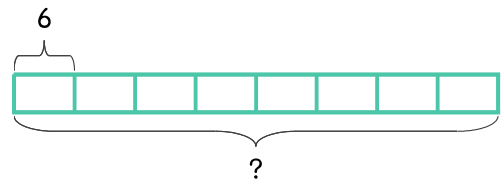
식 _____ 답 _____

15 호두과자를 한 사람에게 4개씩 주려고 합니다. 7명에게 주려면 필요한 호두과자는 몇 개인가요?



식 _____ 답 _____

16 송편을 6개씩 상자에 담으려고 합니다. 상자가 8개이면 필요한 송편은 몇 개인가요?



식 _____ 답 _____

