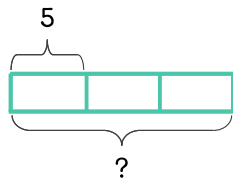


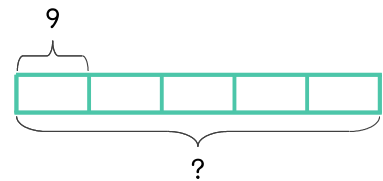
문제를 읽고 알맞은 식을 세워 답을 구하세요.

21 배는 5개 있고 사과는 배의 3배만큼 있습니다. 사과는 몇 개인가요?



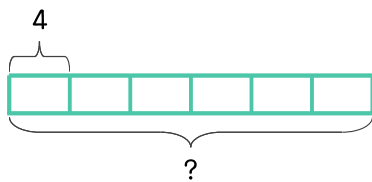
식 _____ 답 _____

22 건포도는 9개 있고 아몬드 건포도의 5배만큼 있습니다. 아몬드는 몇 개인가요?



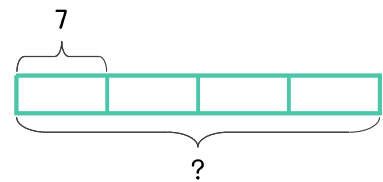
식 _____ 답 _____

23 땅콩은 4개 있고 호두는 땅콩의 6배만큼 있습니다. 호두는 몇 개인가요?



식 _____ 답 _____

24 당근은 7개 있고 오이는 당근의 4배만큼 있습니다. 오이는 몇 개인가요?



식 _____ 답 _____

