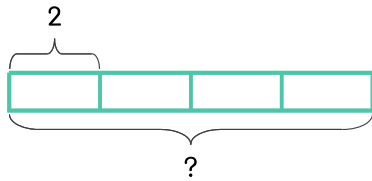


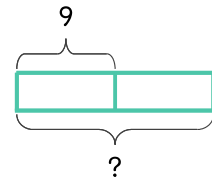
문제를 읽고 알맞은 식을 세워 답을 구하세요.

25 지아의 동생은 2살이고 지아 나이는 동생의 4배입니다. 지아는 몇 살 인가요?



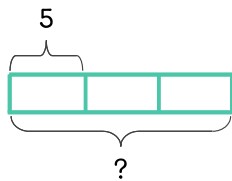
식 _____ 답 _____

26 지아는 9살이고 오빠의 나이는 지아 나이의 2배입니다. 오빠는 몇 살 인가요?



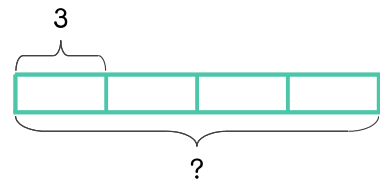
식 _____ 답 _____

27 은서의 동생은 5살이고 은서의 언니는 동생 나이의 3배입니다. 언니는 몇 살 인가요?



식 _____ 답 _____

28 민지의 동생은 3살이고 민지의 오빠는 동생 나이의 4배입니다. 오빠는 몇 살 인가요?



식 _____ 답 _____

