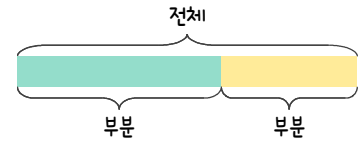
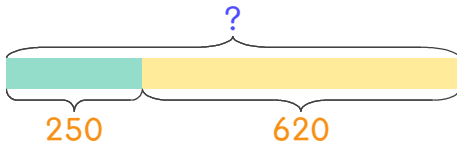


문제를 읽고 알맞은 덧셈식이나 뺄셈식을 세워 답을 구하세요.

부분과 전체를 생각하며 해결해 보세요.

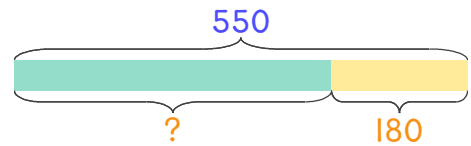


1 250과 620의 합은 얼마인가요?



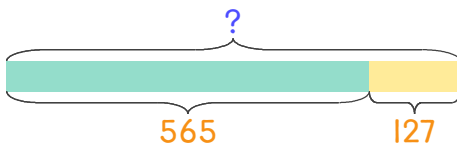
식 $250+620=870$ 답 870

2 어떤 수와 180의 합은 550입니다. 어떤 수는 얼마인가요?



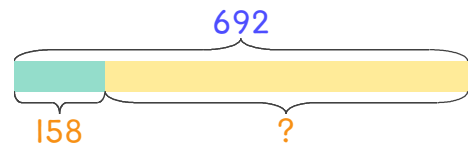
식 _____ 답 _____

3 도서관에 동화책 565권과 만화책 127권이 있습니다. 동화책과 만화책을 합하면 모두 몇 권인가요?



식 _____ 답 _____

4 도서관에 있는 책 692권 중에서 158권이 대출 중입니다. 대출 중이 아닌 책은 몇 권인가요?



식 _____ 답 _____

