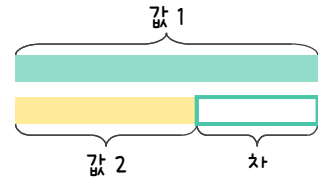
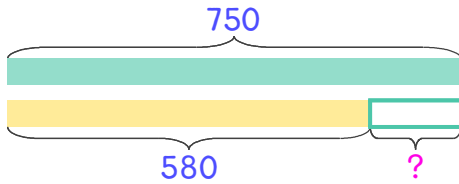


문제를 읽고 알맞은 덧셈식이나 뺄셈식을 세워 답을 구하세요.

두 수의 크기를 비교하여 해결해 보세요.

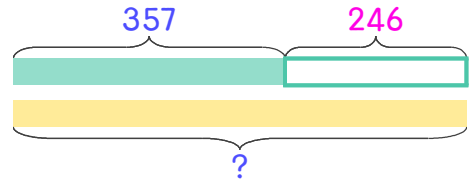


1 750과 580의 차는 얼마인가요?



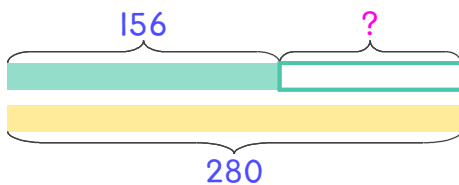
식  $750 - 580 = 170$  답  $170$

2 357보다 246 더 큰 수는 얼마인가요?



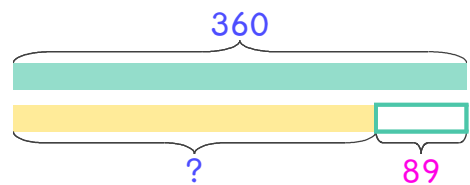
식 \_\_\_\_\_ 답 \_\_\_\_\_

3 과수원에서 포도 156상자와 복숭아 280 상자를 팔았습니다. 복숭아를 몇 상자 더 많이 팔았나요?



식 \_\_\_\_\_ 답 \_\_\_\_\_

4 과수원에 포도나무 360그루가 있고 사과나무는 포도나무보다 89그루 더 적습니다. 사과나무는 몇 그루 있나요?



식 \_\_\_\_\_ 답 \_\_\_\_\_

