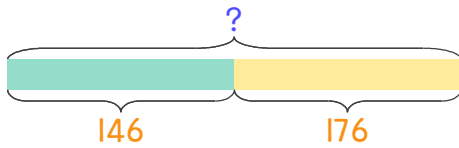


문제를 읽고 알맞은 식을 세워 답을 구하세요.

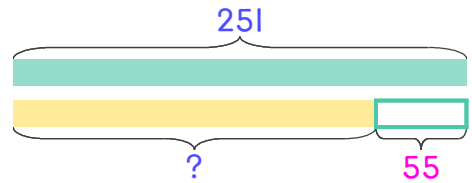
- 1 장난감 공장에서 장난감 비행기 146대와 장난감 배 176대를 만들었습니다. 장난감 비행기와 배를 합하면 몇 대인가요?



식 _____

답 _____

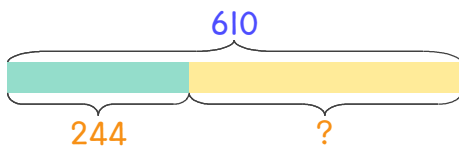
- 2 장난감 공장에서 지난주에는 장난감 자동차 251대를 만들었고 이번 주에는 지난주보다 55대 더 적게 만들었습니다. 이번 주에 만든 장난감 자동차는 몇 대인가요?



식 _____

답 _____

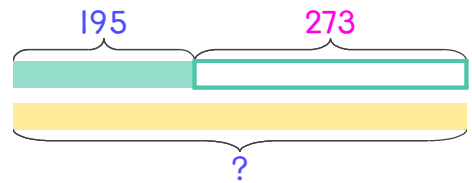
- 3 길이가 다른 끈 2개가 있습니다. 두 끈의 길이를 합하면 610cm이고 짧은 끈의 길이는 244cm입니다. 긴 끈의 길이는 몇 cm인가요?



식 _____

답 _____

- 4 흰색 끈은 195cm이고 검은색 끈은 흰색 끈보다 273cm 더 깁니다. 검은색 끈의 길이를 구하세요.



식 _____

답 _____

