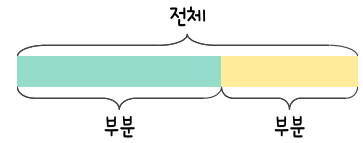
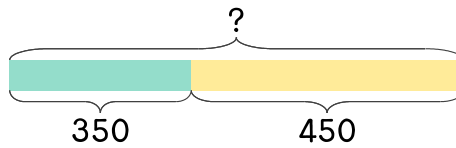


문제를 읽고 알맞은 덧셈식이나 뺄셈식을 세워 답을 구하세요.

부분과 전체를 생각하며 해결해 보세요.

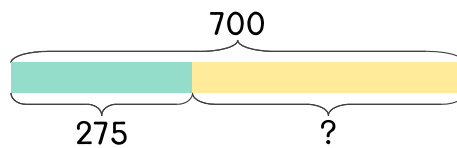


1 350과 450의 합은 얼마인가요?



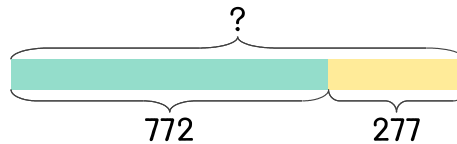
식 $350+450=800$ 답 800

2 275와 어떤 수의 합은 700입니다. 어떤 수는 얼마인가요?



식 _____ 답 _____

3 772와 277의 합은 얼마인가요?



식 _____ 답 _____

