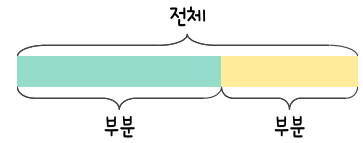
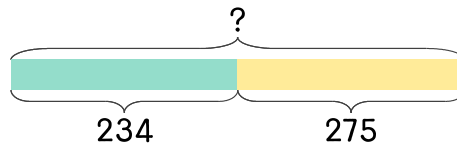


문제를 읽고 알맞은 덧셈식이나 뺄셈식을 세워 답을 구하세요.

부분과 전체를 생각하며 해결해 보세요.

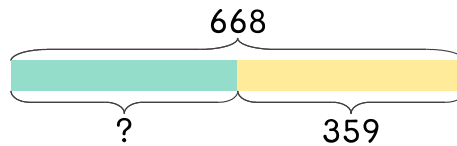


- 4 세희네 학교의 남학생은 234명이고 여학생은 275명입니다. 세희네 학교의 학생 수는 모두 몇 명인가요?



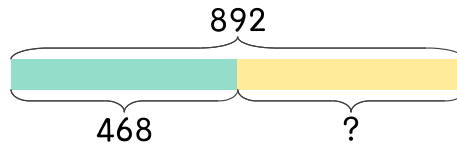
식 $234+275=509$ 답 509 명

- 5 민재네 학교의 학생 수는 668명이고 여학생은 359명입니다. 남학생은 몇 명인가요?



식 _____ 답 _____

- 6 동호네 마을의 사람 수는 892명이고 남자는 468명입니다. 여자는 몇 명인가요?



식 _____ 답 _____

